

Уе - 11 - 1

БЛАНК ЗАДАНИЙ
муниципального этапа всероссийской олимпиады школьников
по ИСТОРИИ

2021/2022 учебный год

11 класс

Общее время выполнения работы – 150 минут.
Максимальное количество баллов – 100.



Задание 1. Выберите один правильный ответ. Ответы впишите в таблицу.

1.1. Представители какого течения общественной мысли России первой половины XIX века взяли за основу взгляды Ш. Фурье и А. Сен-Симона?

- А) декабристы Б) социалисты В) консерваторы Г) славянофилы

1.2. Укажите российского государственного деятеля, разработавшего 43 проекта реформ, лишь 10 из которых были реализованы на практике, при чем часть из них уже после его смерти?

- А) С.Ю. Витте Б) В.К. Плеве В) П.Н. Милюков Г) П.А. Столыпин

1.3. Частью какого проекта преобразования России является приведенный ниже фрагмент?

«Столицею Российского Государства выбран Нижний Новгород потому: 1) Что сей Город в середине России расположен. 2) Что стоя на Волге и Оке он всех прочих удобнее для внутренней Торговли и для привоза всяких припасов в столь большом количестве для Столицы Необходимых. 3) Что Макарьевская Ярмарка соединяет Европу с Азиею в сухопутных торговых отношениях. 4) Что освобождение России от ига иноплеменного чрез Минина и Пожарского из сего города изошло, и 5) Что все воспоминания о древности Нижегородской дышут свободою и прямою Любовью к Отечеству, а не к тиранам Его. Временное Верховное Правление обязывается принять все меры и распорядить все нужные издержки для основания Столицы в Нижнем Новгороде».

А) «Введение к Уложению государственных законов» М.М. Сперанского

Б) «Конституция» Н. Муравьева

В) «Русская правда» П. Пестеля

Г) «Конституция» М.Т. Лорис-Меликова.

1.4. Определите, о каком событии пишет У. Черчилль в работе «Мировой кризис», фрагмент которой представлен вашему вниманию?

«... Вместо старого союзника перед нами стоял призрак, не похожий ни на что существовавшее до сих пор на земле. Мы видели государство без нации, армию без

Члены жюри:

_____ , _____ , _____

отечества, религию без бога. Правительство, возымевшее претензию представлять в своем лице новую Россию, было рождено революцией и питалось террором. Оно отвергло обязательства, вытекавшие из договоров; оно заключило сепаратный мир; оно дало возможность снять с восточного фронта миллион немцев и бросить их на Запад для последнего натиска».

А) Брестский мир

Б) пакт Молотова-Риббентропа

В) Рапалльский договор

Г) Портсмутский мир.

1.1.	1.2.	1.3.	1.4.
А	Г 2	В 2	Б

Максимальное количество баллов – 8.

Задание 2. Выберите несколько ответов. Ответы внесите в таблицу.

2.1. Какие из указанных организаций являлись марксистскими?

А) Союз борьбы за освобождение рабочего класса»

Б) «Черный передел»

В) группа «Освобождение труда»

Г) «Народная воля»

Д) «Народная расправа»

2.2. Кто из указанных политических, военных и государственных деятелей находился в оппозиции к И.В. Сталину и подвергся репрессиям в 1920 – 1930-х годах?

А) М.В. Фрунзе

Б) Г.Е. Зиновьев

В) В.М. Молотов

Г) Н.И. Бухарин

Д) С.М. Буденный

Е) М.Н. Тухачевский

2.3. Какие из указанных понятий вошли в триединую формулу С.С. Уварова, которая должна была стать залогом могущества Российской империи?

А) «Неделимость»

Б) «Самодержавие»

В) «Русификация»

Г) «Православие»

Д) «Народность»

Е) «Парламентаризм»

Ж) «Секуляризация»

2.1.	2.2.	2.3.
А В 2	Б Г 1	Б Г Д 2

Максимальное количество баллов – 6.

Задание 3. Укажите, по какому принципу образован каждый ряд? Дайте максимально точный ответ.

3.1. Михаил Скопин-Шуйский, Станислав Жолкевский, Иван Заруцкий, Прокопий Ляпунов, Ян Ходкевич = Семьбоярщина

3.2. Анастасия Захарьина-Юрьева, Мария Кученей, Марфа Собакина, Мария Нагая, Анна Колтовская = _____

Члены жюри: _____, _____, _____

произошло? Кровавое воскресенье, Санкт-Петербург
1905

Частью какого более крупного исторического события/явления является указанное событие? Назовите его Первая российская революция 1905-1907

Определите, какие из утверждений, характеризующих событие, запечатлённое на гравюре, верные, а какие - нет. Впишите ответы в таблицу.

1. Инициатором и организатором данного события был В.И. Ленин.
2. Главным участником данного события были крестьяне.
3. Инициатором и организатором данного события был священнослужитель.
4. Участники указанного события требовали наладить снабжение хлебом в городе.
5. Участники данного события организовали массовые вооружённые столкновения с правительственными войсками в Москве.
6. Среди участников данного события были представители революционных партий: большевиков, меньшевиков и эсеров.

Верно	Неверно
36	1245

Максимальное количество баллов – 10

10


Задание 6. На территории Восточной Пруссии в годы Великой Отечественной войны действовало более 2,5 тысячи человек, входивших в 237 различных разведывательно-диверсионных формирований. Почти все советские разведчики пропали без вести или погибли. В Калининградской области чтят память героев. Внимательно изучите изображения расположенных на территории нашей области памятников, среди которых есть памятники, посвященные военным разведчикам, и ответьте на вопросы.



А)



Б)




В)

Члены жюри:

[подпись], [подпись], [подпись]


Кс - 11 - 1



Г)



Д)



Е)

Укажите буквы, которыми обозначены памятники, посвященные воинам-разведчикам?	А В Е
Какой буквой обозначен памятник советским разведчикам, установленный в 1976 году. Он стал первым в Калининградской области памятником, посвященным советским разведчикам, которых во время войны забрасывали в Восточную Пруссию.	Е 2
Назовите город в Калининградской области, в котором 22 июля 2021 года был открыт памятник павшим во время Восточно-Прусской операции разведчикам?	Советск
Укажите название легендарной разведгруппы, заброшенной в Восточную Пруссию в 1944 году, которая смогла продержаться долгие шесть месяцев, выполняя поставленную боевую задачу.	Джек 2

Максимальное количество баллов – 10.

8

Задание 7. Установите соответствие между отечественными художественными фильмами и событиями Великой Отечественной войны, которым они были посвящены.

	Художественный фильм		События войны
1	«Жила была девочка» (1944)	А	Курская битва
2	«Освобождение: Огненная дуга» (1968)	Б	Битва за Днепр
3	«Горячий снег» (1972)	В	Битва за Москву
4	«Если враг не сдаётся...» (1982)	Г	Сталинградская битва
5	«Батальоны просят огня» (1985)	Д	Блокада Ленинграда
6	«Двадцать восемь панфиловцев» (2016)	Е	Корсунь-Шевченковская операция

1	2	3	4	5	6
А Б	А +	В	Г	Е	В +

Максимальное количество баллов 6.

Члены жюри:

Задание 8. Перед вами английская карикатура, напечатанная в 1774 году. Внимательно изучите изображение и ответьте на вопросы.



Thy Kingdom & Liberties is now at stake, In four such stomachs, 'tis a mere plum cake.

Укажите историческое событие, которому посвящено указанное изображение

Первый Раздел Польши

2

Определите имена монархов, которые изображены на гравюре, а также названия государств, которыми они управляли в 1774 году. Названия государств должны соответствовать тому периоду, на который пришлось правления данных монархов.

	Имя правителя		Название государства
1	Екатерина II	+	Российская империя
2	Фредерик Франсуа I		Австрийская империя
3	Фридрих II	+	Пруссия
4	Мехмед Сулейман II	+	Османская империя
5	Карл V		Англия
6	Лодовик XVI	+	Франция

Максимальное количество баллов - 14.

Члены жюри:

J, MB, ed

9

Задание 9. Расположите в хронологическом порядке следующие события отечественной и зарубежной истории:

1. А) Основание Царскосельского лицея
- Б) Основание Славяно-греко-латинской академии
- В) Основание Московского университета
- Г) Основание Академии наук
- Д) Основание Смольного института благородных девиц
2. А) Учреждение Лиги наций
- Б) Война за испанское наследство
- В) Мюнхенский договор
- Г) Компьенское перемирие
- Д) Парижская коммуна

1	Г	Б	В	А	Д
2	Б	Д	Г	В	А

Максимальное количество баллов – 8 баллов

Задание 10. Вам предстоит работать с высказываниями историков и современников о событиях и деятелях отечественной истории. Выберите из них одно, которое станет темой Вашего сочинения-эссе. Ваша задача – сформулировать собственное отношение к данному утверждению и обосновать его аргументами, представляющимися Вам наиболее существенными

При выборе темы исходите из того, что Вы:

1. Ясно понимаете смысл высказывания (не обязательно полностью или даже частично быть согласным с автором, но необходимо понимать, что именно он утверждает).
2. Можете выразить свое отношение к высказыванию (аргументировано согласиться с автором либо полностью или частично опровергнуть его высказывание).
3. Располагаете конкретными знаниями (факты, статистические данные, примеры) по данной теме.
4. Владете терминами, необходимыми для грамотного изложения своей точки зрения.

При написании работы постарайтесь исходить из того, что **Жюри, оценивая Ваше эссе, будет руководствоваться следующими критериями:**

1. Обоснованность выбора темы, постановка **проблемы** и формулировка **трёх задач**, которые ставит в своей работе участник.
2. Творческий характер восприятия темы, ее осмысления.
3. Грамотность использования исторических фактов и терминов.

Члены жюри: _____, _____, _____

4. Четкость и доказательность основных положений работы.
5. Знание различных точек зрения по избранному вопросу.
6. Выводы (три вывода по поставленным задачам и обобщение по проблеме).

Темы эссе

1. «Ярослав заслужил в летописях имя государя мудрого; не приобрел оружием новых земель, но возвратил утраченное Россией в бедствиях междоусобия: не всегда побеждал, но всегда оказывал мужество, успокоил отечество и любил свой народ» (Н.М. Карамзин)
2. «Главным содержанием опричнины стали совершенно беспрецедентные и бессмысленные убийства ради убийств» (Л.Н. Гумилев)
3. «Россия за годы управления первого царя из дома Романовых возродилась из руин, обрела силу и мощь, покончив с последствиями Смуты. Правительство Михаила смогло не только вывести страну из кризиса, но и укрепить ее, создав условия для дальнейшего более быстрого развития». (Л.Е. Морозова)
4. «Именно при Екатерине Россия превратилась в великую державу, без которой стало невозможно решение хоть сколько-нибудь значимого вопроса в международных делах». (В.Н. Рудаков) ✓
5. «При вступлении на трон он был окружен благоговейным обожанием подданных, но не оправдал ничьих надежд, не проведя в жизнь ни одной из обещанных стране либеральных реформ» (Анри Труайя об Александре I)
6. То была серьезная, последняя альтернатива старого мира, попытка избавиться от взрыва снизу путем «революции сверху» и создания новой массовой опоры режиму. (Н.Я. Эйдельман о столыпинской реформе)
7. «Если битва под Сталинградом предвещала закат немецко-фашистской армии, то битва под Курском поставила её перед катастрофой» (И.В. Сталин)

Максимальное количество баллов – 25.

Правление Екатерины II считается самой
 золотой эпохой России на международной арене.
 Никто не спорит, что именно при ней Россия
 стала очень влиятельным игроком в геополитике.
 Но все же - разве при ней империя стала
 такой великой?

Как всегда, великая политика России

Члены жюри:

Иванов, Сидорова, Петрова

Кс-11-1

делится на три направления - Юг, ~~север~~ Восток и Запад. Восточное направление было не особо активным - было только освоение территорий Сибири и укрепление границы. А вот в других направлениях Россия тогда делал.

На фоне традиционного соперничества России была Османская империя. Главной задачей для нас всегда была возможность выхода в Средиземное море через Босфор и Дарданеллы. За правление Екатерины, Россия воевала с турками дважды. В первый раз - Россия одержала победу, и кроме завооевания территорий на Кавказе и на реке Дунай, добились независимости Крымского ханства от Османской империи. Поставив в качестве своего "правителя" Россия, пошепотом как из-за ~~прав~~ того, что не олицетворяла правитель должен олицетвлять чужую ~~во~~ своего ~~какого~~ мусульманского государства - как Иван Османская империя - потеряла свое влияние в ханстве началась новая война с Турцией, по результатам которой завооевали Крым. Хотя выход в Средиземное море не получен, Россия получила огромные

Члены жюри:

В. Мещеряков, С.

магусами и чермозинные замки для в
выращивания багряных культур.

Другим, ~~тоже~~ ^{наименее} важной направлением
являлась Западное. Главной задачей являлось
возвращение украинским и белорусским землям,
которые находились на территории Гечи
Полтавской. Заключив Пруссией и Австрией
договор оми в 1774, 1793 и 1795 полностью
разделили Польшу, а все бывшие земли
наименее украинским и белорусским достались
России. К тому же Екатерина, как главный
символ самодержавия вил в стране осуждала
действия во Франции, поддержав короля.

Да можно сказать, что у России было не
мало врагов и недругов в мире европейских
государств. Но менее точно сказать - своим
политическим действием Россия получила

Желаем удачи!

Члены жюри:

И, М, А

ис-11-1

авторитет которой все признавали и
до сих пор признают, так что Россия была влиятель-
ным государством не только в геополитических
мирах Европы

20,

Члены жюри:

[Handwritten signatures]

